

# GEOGRAFÍA

## CONTENIDOS:

- 🌐 *Océanos, mares.*
- 🌐 *Líneas imaginarias: paralelos y meridianos.*

### ***El mapa del mundo: PLANISFERIO***

#### **Continentes y océanos**

Un continente es cada una de las grandes extensiones en que se divide la superficie terrestre, separadas entre sí por los océanos. Los océanos son aquellas partes de la superficie del planeta ocupadas por agua marina que rodean a los continentes y que cubren actualmente alrededor del 71% de la Tierra.

#### **Nuestro planeta se encuentra formado por seis continentes:**

- América
- Asia
- África
- Europa
- Oceanía
- El continente Antártico

#### **Y por cinco océanos:**

- Pacífico
- Atlántico
- Indico
- Glacial Ártico
- Glacial Antártico

**Te invito a que veas un video y entiendas mejor:**



[https://www.youtube.com/watch?v=mT2dEdVnR\\_U](https://www.youtube.com/watch?v=mT2dEdVnR_U)



## LA REPRESENTACIÓN DE LA TIERRA: ¿Qué son los Paralelos y Meridianos?

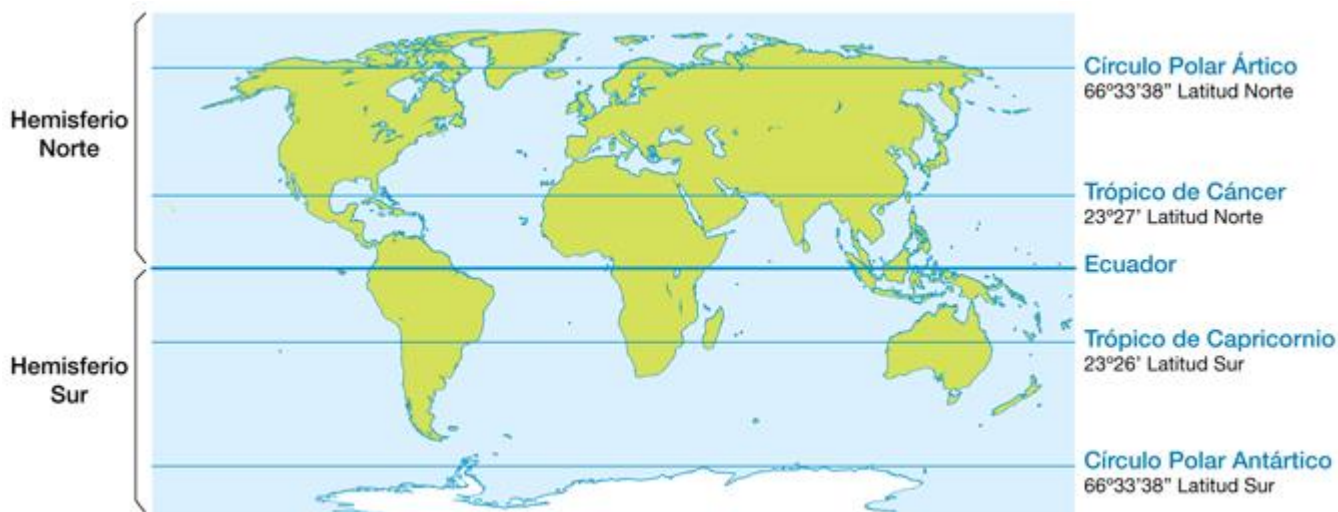
- **Mira** el video para que comprendas como está dividida por líneas imaginarias la superficie de la tierra.



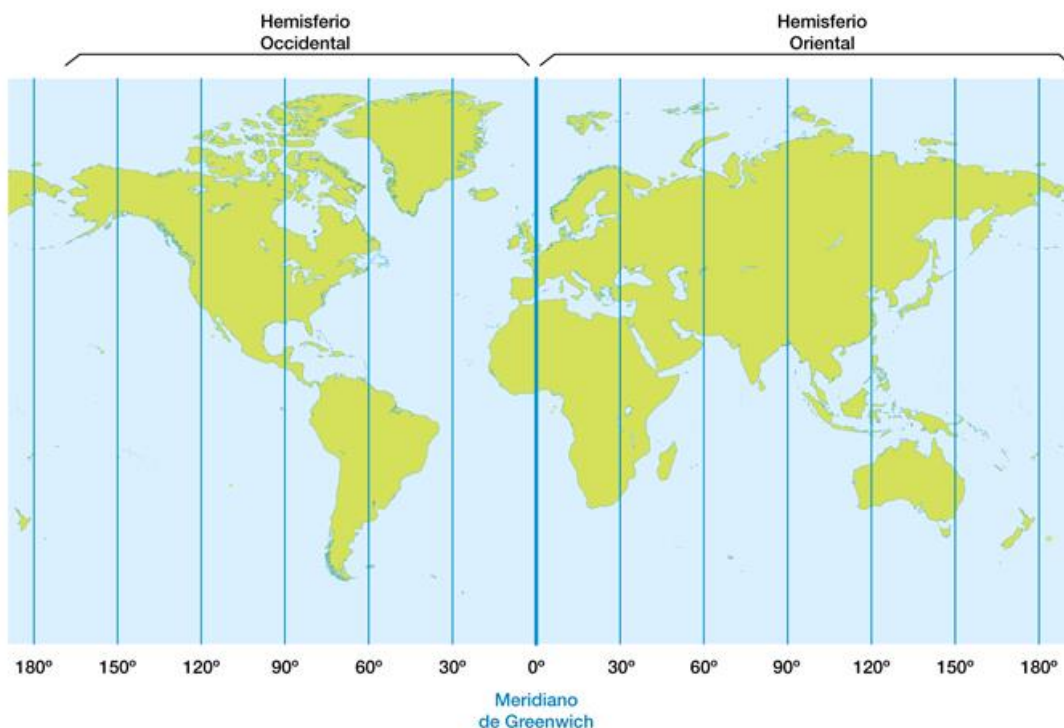
<https://www.youtube.com/watch?v=62THaXeqPhc> (La representación de la Tierra).

### PARA TENER EN CUENTA:

- La línea del **Ecuador**: DIVIDE AL PLANETA TIERRA EN DOS PARTES IGUALES LLAMADOS **HEMISFERIOS**: **NORTE** (ARRIBA) Y **SUR** (ABAJO)

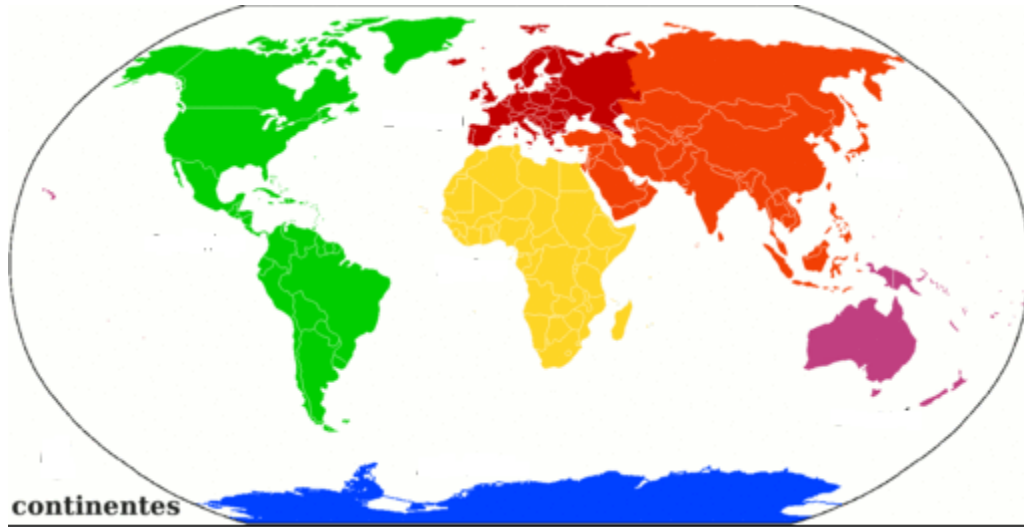


- El Meridiano de Greenwich divide a la Tierra en dos partes iguales: Hemisferio Oeste u Occidental - Hemisferio Este u Oriental.



**¡Ahora pongamos en práctica lo leído!**

1) **Observa** la siguiente imagen y **responde**:



- a) ¿Cuál es el nombre del continente verde?
- b) ¿Cuál es el nombre del continente amarillo?
- c) ¿Cuál es el nombre del continente rosado?
- d) e- ¿Cuál es el nombre del continente azul? ¿Existen países dentro de él? ¿Por qué?



4) Con ayuda del mapa anterior **completa** las siguientes oraciones.

- a. América limita al Este con ..... y al oeste con .....
- b. América limita al Norte con ..... y al Sur con .....
- c. América se ubica al ..... de Europa, al ..... de Asia y al ..... de África.
- d. El océano ..... separa a América de Europa

e. El océano \_\_\_\_\_ separa a América de Asia.

F. El océano \_\_\_\_\_ separa a América de África.

7) -**Ubica** en un mapa político de América a nuestro país, **marca** y escribe sus **límites**.

8) **Ubica** los océanos Pacífico Sur y Atlántico Sur.

❖ Si tenés la posibilidad de mirar estos videos, te ayudarán un montón.

8) **Comenta** en tu carpeta de que trata cada uno.



[https://www.youtube.com/watch?time\\_continue=10&v=d-ytmDLMyhg&feature=emb\\_logo](https://www.youtube.com/watch?time_continue=10&v=d-ytmDLMyhg&feature=emb_logo)

[https://www.youtube.com/watch?time\\_continue=3&v=nuq1Ux42DQg&feature=emb\\_logo](https://www.youtube.com/watch?time_continue=3&v=nuq1Ux42DQg&feature=emb_logo)



### Para aprender jugando:

Continentes: <https://online.seterra.com/es/vgp/3004>

Continentes y océanos: <https://online.seterra.com/es/vgp/3188>

Continentes y océanos (con imágenes): <https://online.seterra.com/es/vgp/3287>

Países del mundo: <https://www.cokitos.com/formas-de-paises/play/>

Coordenadas Geográficas <http://www.educaplus.org/game/coordenadas-geograficas>

## MAPAS DE REFERENCIA





